

Nom Prénom	Classe	Établissement

Attention ! Ecrire très lisiblement et sans rature car toute réponse mal écrite sera considérée comme fausse.

Défi n° 1

A B

 C G

 D

 E
 F S P

 J K R Q

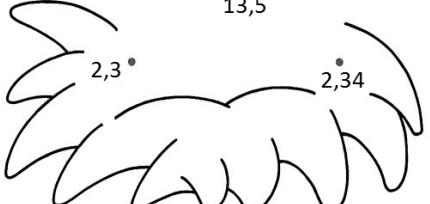
 M

 L H

 N O

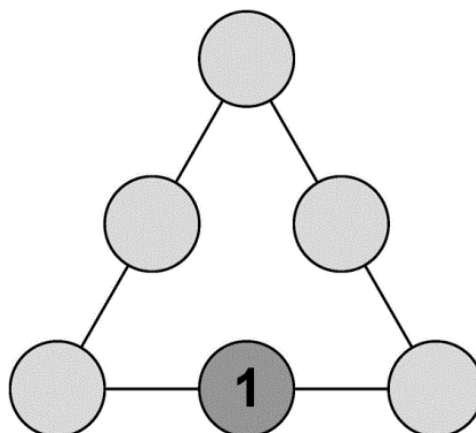
Défi n° 2

$0,5$ $0,93$ $1 + \frac{5}{10}$
 $0,9$ $1,8$ $1,12$ $13,21$ $5 + \frac{1}{10}$
 $0,27$ $1,7$ $5,2$
 $1,87$ 2 721 127 5
 712 $13,5$
 $2,3$ $2,34$




Défi n°3

Compléter avec les nombres qui conviennent



Défi n°4

Tracer les contours de chaque morceau M à l'intérieur de la surface S



Défi n°5

Nombre en lettres	Nombre en chiffres

Défi n°6

Entourer le dessin qui se trouve sur la face opposée au trèfle.



Défi n°7

Colorier chacun des 4 crayons avec la bonne couleur et indiquer le nom de la couleur à côté du crayon

Crayons à colorier	Nom de la couleur

Défi n°8

Faire apparaître la bonne réponse en coloriant les allumettes en noir ou avec une couleur foncée.

Question 1

$$\begin{array}{|c|} \hline 8 \\ \hline 8 \\ \hline \end{array} + \begin{array}{|c|} \hline 8 \\ \hline 8 \\ \hline \end{array} = \begin{array}{|c|} \hline 8 \\ \hline 8 \\ \hline \end{array}$$

Question 2

$$\begin{array}{|c|} \hline 8 \\ \hline 8 \\ \hline \end{array} - \begin{array}{|c|} \hline 8 \\ \hline 8 \\ \hline \end{array} = \begin{array}{|c|} \hline 8 \\ \hline 8 \\ \hline \end{array}$$

Nos 4 défis obligatoires



Joker facultatif

Nous plaçons un joker sur l'un des 4 défis précédents,

sur le n°

Remarque

Si vous ne placez pas de joker, faites une croix dans la case ci-dessus.